

Objectif : Je sais lire les heures justes et les demi-heures.

1. Écris les heures indiquées sur ces horloges.



www.micetf.fr

Il est ..... h ..... min.



www.micetf.fr

Il est ..... h ..... min.



www.micetf.fr

Il est ..... h ..... min.



www.micetf.fr

Il est ..... h ..... min.



www.micetf.fr

Il est .....



www.micetf.fr

Il est .....



www.micetf.fr

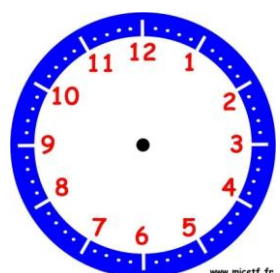
Il est .....



www.micetf.fr

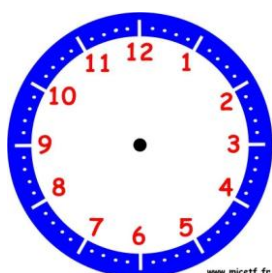
Il est .....

2. Place les aiguilles selon les heures indiquées.



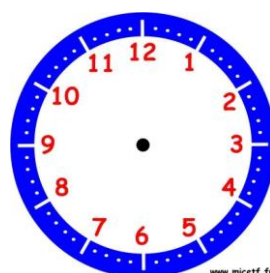
www.micetf.fr

Il est 2 h 00 min.



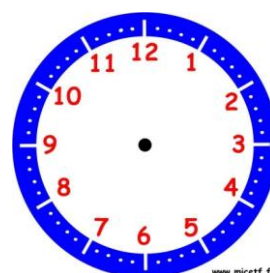
www.micetf.fr

Il est 12 h 00 min.



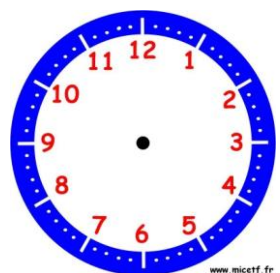
www.micetf.fr

Il est 5 h 30 min.



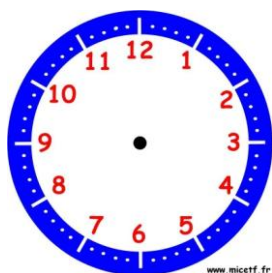
www.micetf.fr

Il est 7 h 00 min.



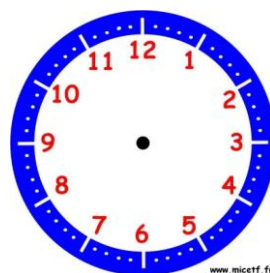
www.micetf.fr

Il est 10 h 30 min.



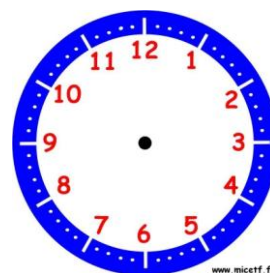
www.micetf.fr

Il est 6 h et demie.



www.micetf.fr

Il est 11 h 00 min.



www.micetf.fr

Il est 1 h et demie.